



۱- مداد زیر را با خط کش اندازه بگیر و جمله ها را کامل کن .



اندازه ی طول مداد ..... سانتی مترو ..... میلی متر است .

اندازه ی طول مداد ..... سانتی مترو ..... قسمت از ۱۰ قسمت مساوی است .

۲- جاهای خالی را کامل کن .

عدد ۳۶ را می توان به صورت ..... ده تایی و ..... قسمت از ۱۰ قسمت بیان کرد.

عدد ۱۲ را می توان به صورت ..... ده تایی و ..... قسمت از ۱۰ قسمت بیان کرد.

عدد ۷ را می توان به صورت ..... ده تایی و ..... قسمت از ۱۰ قسمت بیان کرد.

۳- کیک تولد ریحانه به ۸ قسمت مساوی تقسیم شده است . ۲ قسمت را پدر و ۱ قسمت را مادر و ۳ قسمت

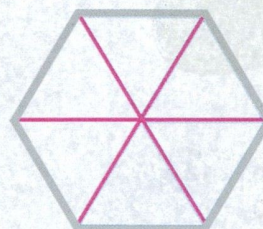


را ریحانه و برادرش خوردند . حالا بگو :

..... قسمت از ۸ قسمت مساوی کیک تولد خورده شده است.

..... قسمت از ۸ قسمت مساوی کیک تولد هنوز باقی مانده است.



۴- با توجه به کسر نوشته شده شکل را رنگ بزن .



۱ قسمت از ۶ قسمت مساوی      ۸ قسمت از ۱۲ قسمت مساوی      ۳ قسمت از ۴ قسمت مساوی







فرزندان با تلاشی و کوششی، کوششی و تلاشی خود را جویای خواهید شد.

۱- قسمت از ..... قسمت مساوی.

۲- ..... ساعت است؟

۳- ..... ساعت است؟

۴- ..... ساعت است؟



۱- ..... است؟

۲- ..... است؟

۳- ..... است؟

۴- ..... است؟

# چپ و راست

..... دست راستی می شود


۱- با توجه به شکل، جاهای خالی را کامل کن.

۱- ..... است؟

۲- ..... است؟

۳- ..... است؟

نقطه ی مشخص شده ..... واحد و ..... قسمت مساوی را نشان می دهد.



۱- در این محور هر واحد و ۳ قسمت مساوی تقسیم شده است.